


## NIVEL I

1º y 2º ESO

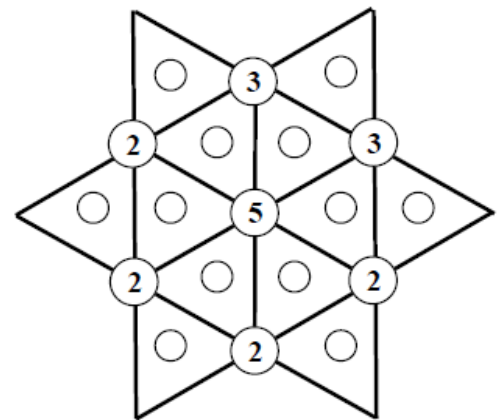
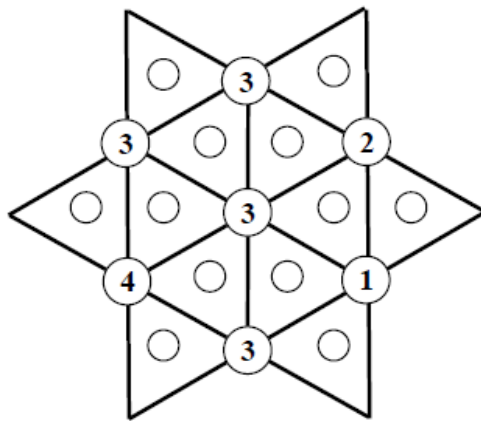
### Prueba 5: El frutero

Sabiendo que 3 manzanas y una pera pesan lo mismo que 10 melocotones y que 6 melocotones y una manzana pesan lo mismo que una pera ¿Cuántos melocotones serán necesarios para equilibra a una pera?



### Prueba 6: Hexágono estrellado

Los números en cada vértice indican la cantidad total de bolitas rojas que hay en los triángulos contiguos a ese vértice. Mediante razonamiento lógico encuentra las bolitas rojas que hay en cada figura y coloréalas.



*Fecha límite 16/03/18*

*debes resolver estas 2 pruebas y depositar tus respuestas en la urna junto con tu nombre, clase y DNI antes de la fecha límite  
¡ Animo y activa tu mente!*